

ĆWICZENIA DLA MŁODSZYCH I TROCHĘ STARSZYCH

I) Przeczytaj wiersz. Wykonaj kolejne polecenia.

Barwy ojczyste **Czesław Janczarski**

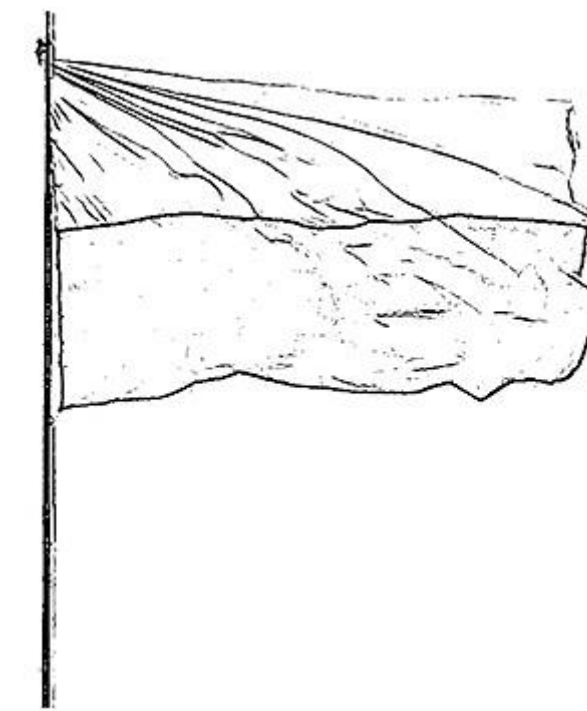
Powiewa flaga, gdy wiatr się zerwie.
A na tej fladze biel jest i czerwień.

Czerwień to miłość, biel – serce czyste...
Piękne są nasze barwy ojczyste.

1. Jestem Polakiem, a moje barwy narodowe to

.....

2. Pokoloruj i uzupełnij brakujące litery w wyrazach.





f l _ g a P _ _ s _ i g o _ ł _ P _ l _ k i

3. Przeczytaj i podkreśl nazwy kolorów.

Jutro jest Święto Flagi. Ja i tata powiesimy flagę na balkonie. Jest tam zielono, więc flaga ozdobi balkon. Flaga jest biało – czerwona. W moim ogródku rosną żółte kwiatki. Zerwę kilka i wstawię do niebieskiego wazonu. Fioletowy obrus i wazon z kwiatkami wygląda pięknie.

4. Jakie to święto?

1 maja –

2 maja –

3 maja –

5. Ułóż wyrazy z sylab

ga – fla god – ło kon – tu – sty –cja

6. Nad wyrazami narysuj kółka w odpowiednich kolorach.

zielony

żółty

niebieski

czarny


fioletowy

pomarańczowy

czerwony

II). Uzupełnij litery w podanych wyrazach. Pokoloruj odpowiednio ilustracje.

Znam symbole narodowe;



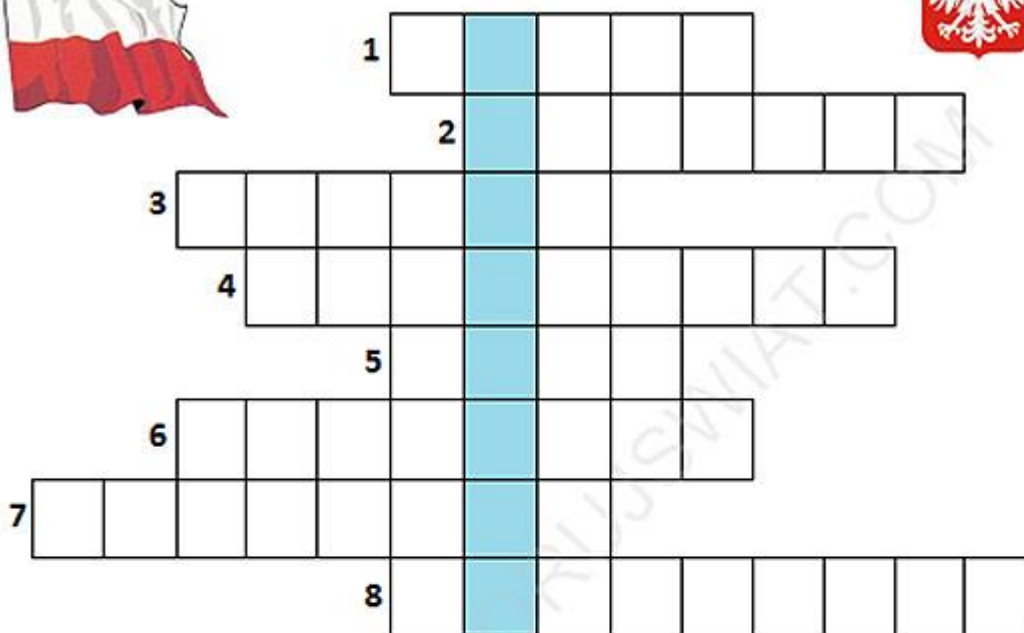
godło *flaga* *mapa*

□ □ p □

g □ d ł □

f l □ g □

Krzyżówka – o Polsce



WWW.POKOLORUJSMIAT.COM

1. Symbol Polski, którym jest biały orzeł na czerwonym tle,
2. Są nimi np. Śniardwy, Mamry lub Łebsko,
3. Państwo z którym graniczymy od strony zachodniej,
4. Przedstawiciel władzy w Państwie, wybierany w wyborach,
5. Jest nim Mazurek Dąbrowskiego,
6. Stolica Polski,
7. Miasto, w którym znajduje się Morskie Oko,
8. Polskie morze.



HASŁO: _____

PRZYKŁADOWE ZADANIA MATEMATYCZNE

Flaga Polski



Flaga Polski

Zadanie 1

Jaki ułamek stanowi biała część flagi
Jaką część, ułamek stanowi czerwona część flagi
Dokończ zdanie $\frac{1}{2}$ to inaczej

Zadanie 2

Dzień Flagi ustanowiono i obchodzono po raz pierwszy w Polsce w 2004r.

Zaznacz na osi rok 2004

1998	1999	2000	2001						2007	
------	------	------	------	--	--	--	--	--	------	--

Zadanie 3

Oblicz ile lat upłynęło od roku 2004 w którym po raz pierwszy ustanowiono i zaczęto obchody Dnia Flagi?

Obliczenia

Odp. Od roku 2004 minęło lat.



1 Maja – Międzynarodowy Dzień Solidarności Ludzi Pracy – został wybrany jako święto robotnicze przez kongres założycielski II Międzynarodówki, obradujący w Paryżu w 1890 roku. Data 1 maja miała uczcić rocznicę strajku robotników w Chicago w 1886 roku, brutalnie stłumionego przez policję. Po raz pierwszy święto 1 maja obchodzono w 1890 roku – m.in. w Wielkiej Brytanii, Niemczech, Belgii, Francji. Organizowane w tym dniu demonstracje i strajki przyczyniły się do stanowczych ruchów robotniczych. Początkowo nielegalne manifestacje 1-majowe zostały później w wielu krajach oficjalnie uznane.

Zadanie 1

Wpisz w wy kropkowane miejsce cyfrę rzymską określającą miesiąc maj i uzupełnij nazwę święta na podstawie tekstu.

1 Maja – 1 obchodzimy:

.....

Po raz pierwszy obchodzono Święto 1 maja w roku 1890 r.

Określ w którym wieku miało miejsce to wydarzenie

Rok 1890 to wiek

Zadanie 2

Zamaluj wiek w którym w którym rozpoczęły się obchody Święta 1 maja

XII	XIII	XIV	XV	XVI	XVII	XVIII	XIX	XX	XXI
-----	------	-----	----	-----	------	-------	-----	----	-----

PUZZLE POCIĘTE NA FIGURY, CZĘŚCI



Stolicą Polski jest



.....



Czy godło Polski ma oś symetrii? (wpisz TAK lub NIE)